

## **Compiti 1 A da Lunedì 30 Marzo a Venerdì 3 Aprile.**

### **Lunedì 30**

#### **ITALIANO**

- Rivedi l'ultima parte del seguente video <https://youtu.be/evwWghSVOfE> (SCIA – SCIO - SCIU).
- Libro rosa: completa pag. 36/37. Copia e disegna nel quaderno tutte le paroline di pag. 37.
- Lettura a piacere.

#### **MATEMATICA**

- Scomponi e metti in ordine crescente i seguenti numeri: 23 – 21 – 5 – 6 – 28 – 15 – 9 – 12 – 21 – 22 – 16 – 1 – 13 – 25 – 30.

#### **SCIENZE**

- Guarda il video <https://youtu.be/ncKl78EmJj0> .
- Rappresenta nel quaderno di matematica i cinque sensi.

## Martedì 31

### ITALIANO

- Esercizi di consolidamento: completa pag. 48/49/50/56 (libro rosa).
- Lettura a piacere.

### STORIA

- Guarda il video <https://youtu.be/rEkbNdvXiR8> .
- Rappresenta nel quaderno di matematica la stagione che preferisci.

### MATEMATICA

- Svolgi nel quaderno i seguenti problemi.
- ❖ Marco ha 28 figurine dei calciatori panini, ne regala 4 al suo migliore amico. Quante figurine gli restano?
- ❖ Sara va al supermercato con la mamma, compra 12 biscotti alla marmellata e 13 alla nutella. Quanti biscotti compra in tutto?

# Mercoledì 1

## ITALIANO

- Guarda il video <https://youtu.be/1eGInffckdl> concentrandoti sulla spiegazione del suono duro di GL.
- Libro rosa: leggi, completa e ricopia nel quaderno pag. 38.
- Lettura a piacere.


## MATEMATICA

- Metti in ordine decrescente i seguenti numeri: 28 – 30 – 5 – 21 – 14 – 7 – 2 – 11 – 9 – 18 – 24 – 20 – 15 – 4 .
  - Risolvi il seguente problema:
- ❖ Laura va in cartoleria, compra 16 quaderni rossi e 12 gialli. Quanti quaderni compra in tutto?


## ARTE E IMMAGINE

- Colora la seguente scheda.


• Colora. Usa solo i colori primari (giallo, blu, rosso).



Usa solo i colori freddi.



Usa solo i colori caldi.



## Giovedì 2

### ITALIANO

- Rivedi il seguente video <https://youtu.be/1eGfNffcKdI> concentrandoti sulla spiegazione del suono dolce di GL.
- Scrivi e disegna 10 paroline che contengono il suono dolce di GL.
- Libro rosa: leggi tante volte e completa pag. 39.

### MATEMATICA

- Addizioni e sottrazioni in colonna.

$12+12=$

da	U	
<hr/>		
		+
		=
<hr/>		

$24+5=$

da	u	
<hr/>		
		+
		=
<hr/>		

$13+14=$

Da	U	
<hr/>		
		+
		=
<hr/>		

$10+16=$

da	U	
<hr/>		
		+
		=
<hr/>		

$14+11=$

da	u	
<hr/>		
		+
		=
<hr/>		

$16+3=$

da	U	
<hr/>		
		+
		=
<hr/>		

$26-12=$

da	U	
<hr/>		-
		=
<hr/>		

$30-10=$

da	u	
<hr/>		-
		=
<hr/>		

$28-24=$

Da	U	
<hr/>		-
		=
<hr/>		

$27-13=$

da	U	
<hr/>		-
		=
<hr/>		

$18-15=$

da	u	
<hr/>		-
		=
<hr/>		

$27-22=$

Da	U	
<hr/>		-
		=
<hr/>		

## RELIGIONE

- Disegna nel quaderno di italiano i simboli della Pasqua.

## Venerdì 3

### ITALIANO

- Guarda il video <https://youtu.be/S64XFaO2EDs> .
- Libro rosa: leggi, completa e ricopia nel quaderno pag. 40 e 41.
- Lettura a piacere.

### MATEMATICA

- Numera da 0 a 30 e viceversa.
- Scrivi il numero che viene prima e quello che viene dopo.

	<b>29</b>	
--	-----------	--

	<b>25</b>	
--	-----------	--

	<b>18</b>	
--	-----------	--

	<b>21</b>	
--	-----------	--

	<b>13</b>	
--	-----------	--

	<b>11</b>	
--	-----------	--

	<b>9</b>	
--	----------	--

	<b>17</b>	
--	-----------	--

	<b>23</b>	
--	-----------	--

	<b>15</b>	
--	-----------	--

	<b>7</b>	
--	----------	--

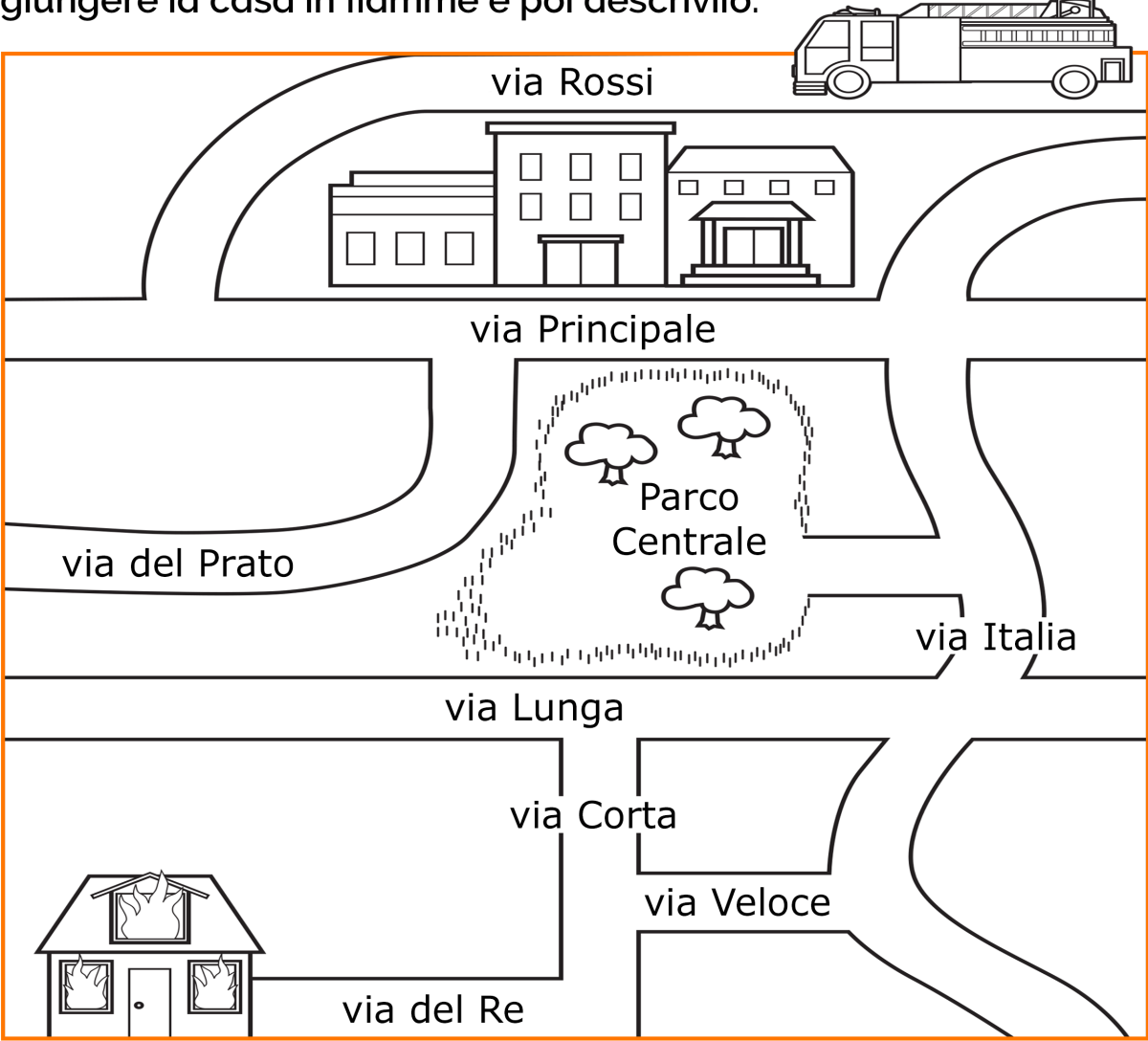
	<b>27</b>	
--	-----------	--

### GEOGRAFIA

- Completa la seguente scheda:

# Percorsi

- Traccia il percorso che il camion dei pompieri dovrà fare per raggiungere la casa in fiamme e poi descrivilo.



Il camion dei pompieri dovrà percorrere tutta via .....

.....

.....

.....

• Obiettivo didattico: sapersi orientare e descrivere graficamente i percorsi.