

Assegno del giorno 15/04/2020

ITALIANO

1. Componimento: Raccontami : Come hai trascorso questa strana Pasqua in famiglia ? e rappresenta con un disegno
2. Ascolta le fiaba di Gianni Rodari “ Il pulcino cosmico “ e “Il giovane gambero” collegandoti ai link
<https://www.youtube.com/watch?v=kOPlxNOIFWA&list=PLV5sa4SrK7k6t2M9TvDuDbAT9tNRreflV>
<https://www.youtube.com/watch?v=UGDagd46G18&list=PLV5sa4SrK7k6t2M9TvDuDbAT9tNRreflV&index=2>

Matematica

1. Ricopia sul quaderno ed esegui gli esercizi a pagina 3 e 4 del file

Geometria

1. Ricopia sul quaderno ed esegui l’esercizio a pagina 5 del file sul quaderno

Assegno del giorno 16 /04/2020

Storia

1. La scoperta del fuoco. Leggi pagina 44 del libro e completa pagina 45

Italiano

1. I verbi – Impariamo le 3 coniugazioni ed esegui gli esercizi 1,2 e 3 a pagina 101 del libro di grammatica

Arte

1. Cosa ti fa piu paura, in questi giorni?
Rappresenta le tue sensazioni con un disegno

Assegno del giorno 17 /04/2020

Matematica

1. Esegui i seguenti problemi

Il papà sta preparando 3 torte e le vuole decorare con fette di ananas. Ha a disposizione 27 fette da disporre in parti uguali sulle torte. Quante fette metterà su ogni torta?

Il nonno ha comperato 39 confezioni di acqua frizzante. In ogni confezione ci sono 6 bottiglie. Quante bottiglie ha comprato in tutto?

Italiano

1 Esegui l'analisi grammaticale delle seguenti frasi (dei verbi indica solo se è tempo presente, passato o futuro . Esempio raccolse = verbo raccogliere tempo passato)

Le lepri corsero velocissime - Mia cugina Flavia ha scelto una mela più buona - la mia città è Casoria –

2 . Componi 5 frasi complesse, una con l'aggettivo qualificativo di grado comparativo di maggioranza, una con l'aggettivo qualificativo di grado comparativo di minoranza, una con l'aggettivo qualificativo di grado comparativo di uguaglianza, una con l'aggettivo qualificativo di grado superlativo assoluto ed una con l'aggettivo qualificativo di grado superlativo relativo.

Geografia

1 . Impara pagina 126 e 127 del libro di geografia e completa le relative schede

Nome: _____

data: _____

Verifica di matematica

Scrivi la frazione della parte colorata



Colora come indicato dalla frazione



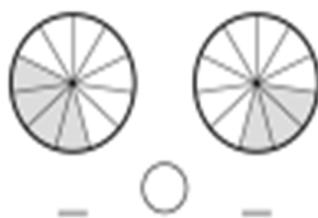
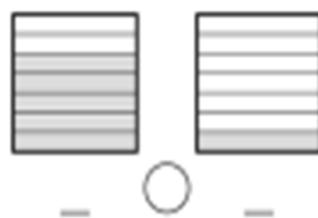
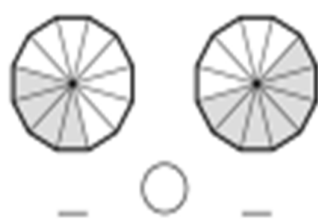
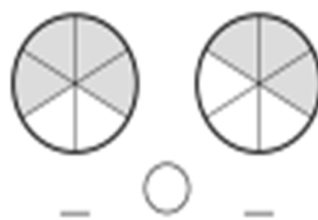
Scrivi la frazione della parte colorata e la sua complementare



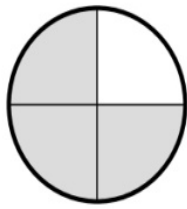
Scrivi i termini della frazione



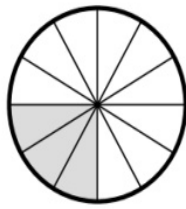
Scrivi le frazioni e inserisci i simboli > o <



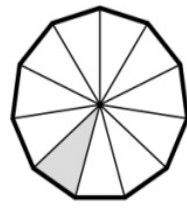
Scrivi le frazioni ed inserisci i simboli $>$ o $<$



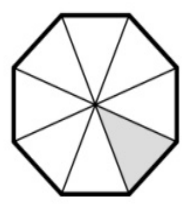
—




—



—



—




—



—



—



—

La SIMMETRIA / DISEGNA L'ALTRA META'

