

## Assegno del giorno 20/4/2020

### MATEMATICA

1. Numera da 1500 a 2000 per 3
2. Esegui l'esercizio a pagina 4 del file
3. Esegui in colonna le seguenti operazioni :  $1733 : 7 =$   $8543 : 8 =$   $1436 : 5 =$   $4793 : 9 =$   
 $5489 \times 4 =$   $3762 \times 8 =$   $2345 \times 9 =$

### ITALIANO

1. Introduciamo il modo indicativo dei verbi / Attendi la spiegazione della maestra oggi pomeriggio, in video collegamento
2. Leggi 3 volte testo a pagina 102 e 103 del libro di lettura e rispondi alle domande a pagina 103

### SCIENZE

1. Imparare pagina 131 e 132 del libro di scienze
2. Guarda il link di seguito per ripetere complessivamente le piante  
<https://www.youtube.com/watch?v=jPSSgBWQdD0>

## Assegno del giorno 21/4/2020

### ITALIANO

1. Fare l'analisi grammaticale delle seguenti espressioni (salta ovviamente le preposizioni che non conosci ancora)  
  
Lucia mangiava felice una zuppa calda – Tuo fratello comprerà lo zaino più bello della classe – Il capitano della squadra del Napoli è Insigne – Il portapenne della mia maestra cadde sul pavimento della classe
2. Leggere 3 volte pagina 30 del libro di grammatica e completa gli esercizi della pagina
3. Ripassa lo schema dei verbi che hai studiato ieri con la maestra

### STORIA

1. Impara l' homo sapiens, leggendo pagina 46 e 47 del libro di Storia e guarda il video inviato dalla maestra

## Assegno del giorno 22/4/2020

### MATEMATICA

1. Approfondiamo le caratteristiche delle frazioni, guarda il video della maestra
2. Rappresenta graficamente sul quaderno le seguenti frazioni :  $\frac{4}{10}$  -  $\frac{5}{8}$  -  $\frac{1}{3}$   
 $\frac{6}{12}$  -  $\frac{5}{7}$

E scomponile così : esempio  $\frac{2}{4}$  numeratore 2  
denominatore 4

3. Risolvi i seguenti problemi :

La maestra consegna a ciascuno dei suoi 25 alunni, 12 fogli da disegno . Quanti fogli consegna a tutta la classe?

Un pasticciere, ha preparato 127 bignè alla crema e 128 bignè al cioccolato. Li dispone equamente su 5 vassoi, quanti bignè mette su ogni vassoio?

### GEOGRAFIA

1. Impara la campagna a pagina 128 e 129 del libro di geografia e rappresenta graficamente sul quaderno un paesaggio di campagna

## Assegno del giorno 23/04/2020

### ITALIANO

1. Esegui gli esercizi a pagina 5 del file ( ricopiali sul quaderno in bella grafia )
2. Impariamo il testo descrittivo (appuntamento alle 15 con la maestra )

### STORIA

1. Ripassa il percorso evolutivo dell'uomo guardando le immagini presenti a pagina 8, 9 e 10 del file, le mappe concettuali della maestra e pagina 56 e 57 del libro di Storia e completa gli esercizi 1 e 2

## ARTE

1. In questi giorni si parla molto di un grande artista della nostra storia , Raffaello Sanzio La settimana scorsa infatti, il 6 aprile è caduto il cinquecentenario della sua scomparsa Scopriamo chi è, guardando il seguente link  
<https://www.youtube.com/watch?v=CyltoAJbnoY>

Dopo colora il disegno allegato a pagina 6 del file (se non hai la stampante , prova a riprodurlo tu, se non ce la fai nulla di grave , i mostriattoli che ne verranno fuori mi piaceranno lo stesso 😊 )

## Assegno del giorno 24/04/2020

### MATEMATICA

1.Esegui le seguenti operazioni  $861-520 =$   $342-123=$   $1456+822 =$   $5239+1570=$

$3256 \times 42 =$   $2749 \times 38 =$   $9875 :7 =$   $5632: 8 =$

2. Problema : Carla vuole confezionare 3 collane uguali , possiede 44 perline rose, 56 verdi, 84 rosa ,35 blu e 42 gialle. Quante perline infilerà in tutto? Quante perline in ogni collana?

### ITALIANO

- 1.Leggi 3 volte pagina 98 e 99 del libro di lettura e completa sul quaderno, l'esercizio a pagina 99
2. Coniuga sul quaderno i tempi semplici del modo indicativo, del verbo mangiare
3. Esegui sul quaderno, l'esercizio presente nell'ultima pagina del file

• Calcola velocemente.

$70 : 10 = \dots\dots\dots$

$90 : 10 = \dots\dots\dots$

$600 : 10 = \dots\dots\dots$

$120 : 10 = \dots\dots\dots$

$170 : 10 = \dots\dots\dots$

$200 : 100 = \dots\dots\dots$

$500 : 100 = \dots\dots\dots$

$800 : 100 = \dots\dots\dots$

$1000 : 100 = \dots\dots\dots$

$1500 : 100 = \dots\dots\dots$

$1700 : 100 = \dots\dots\dots$

$4000 : 100 = \dots\dots\dots$

$5000 : 1000 = \dots\dots\dots$

$7000 : 1000 = \dots\dots\dots$

$9000 : 1000 = \dots\dots\dots$

$850 : 10 = \dots\dots\dots$

$300 : 10 = \dots\dots\dots$

$600 : 100 = \dots\dots\dots$

$2500 : 100 = \dots\dots\dots$

$6000 : 1000 = \dots\dots\dots$

$3400 : 100 = \dots\dots\dots$

$5600 : 100 = \dots\dots\dots$

$2300 : 10 = \dots\dots\dots$

$1000 : 10 = \dots\dots\dots$

$4800 : 100 = \dots\dots\dots$

$7800 : 10 = \dots\dots\dots$

$2000 : 1000 = \dots\dots\dots$

$11000 : 1000 = \dots\dots\dots$

$25000 : 1000 = \dots\dots\dots$

$30000 : 1000 = \dots\dots\dots$

*Completa le frasi scegliendo il verbo adatto fra i seguenti:*

*MANGIO – PASSERÀ – AIUTÒ – FREQUENTERÒ – BEVO – GIOCANO – LAVORERÀ –  
ABBAIA –*

- 1. il mio cane \_\_\_\_\_ agli sconosciuti; - Simone e i suoi amici \_\_\_\_\_ a calcio; -*
- 2. Il prossimo anno io \_\_\_\_\_ la classe quarta; -*
- 3. Domani Luca \_\_\_\_\_ fino a tardi; -*
- 4. A colazione \_\_\_\_\_ una tazza di tè e \_\_\_\_\_ dei biscotti; -*
- 5. La fata Turchina \_\_\_\_\_ Pinocchio; -*
- 6. La zia \_\_\_\_\_ a trovarmi la prossima settimana.*

*Circonda i verbi contenuti nel testo*

*IL SOGNO*

*Giovanna sentì un prurito alle orecchie e pensò: “Forse questa notte sognerò”! Poi si infilò sotto il lenzuolo, mentre Ciccio, il suo cagnolino, dormiva già. Giovanna si addormentò e sognò che un turbine di vento entrava dalla finestra aperta, sollevava nell’aria lei e Ciccio e li trasportava nei buoi della notte. Giovanna e Ciccio si ritrovarono su una collina, in aperta campagna. A poca distanza, un drago rosso riposava sotto un grande albero. Appena li vide, si alzò in piedi e gridò: “Benvenuti! Evviva”*

*Completa le frasi coniugando i verbi nei tempi semplici del modo indicativo*

- Tra 20 minuti (andare ) .....a mangiare al parco*
- Adesso (guardare) .....un programma in tv*
- Il mese scorso (incontrare).....Giulia dal dentista*
- Domani io (mangiare) .....al ristorante*
- Da piccolo (giocare ).....spesso con mio cugino Lele*
- Quando avevo 5 anni (cadere).....da quel muretto*
- Francesca è sul divano e (leggere).....un libro*
- L’anno scorso io (festeggiare).....il compleanno in ludoteca*



Gli Angeli - Particolare del dipinto "La Madonna Sistina"

Raffaello Sanzio (Urbino, 28 marzo o 6 aprile 1483 - Roma, 6 aprile 1520)

**Nella pagina seguente, puoi vedere i colori del dipinto originale**

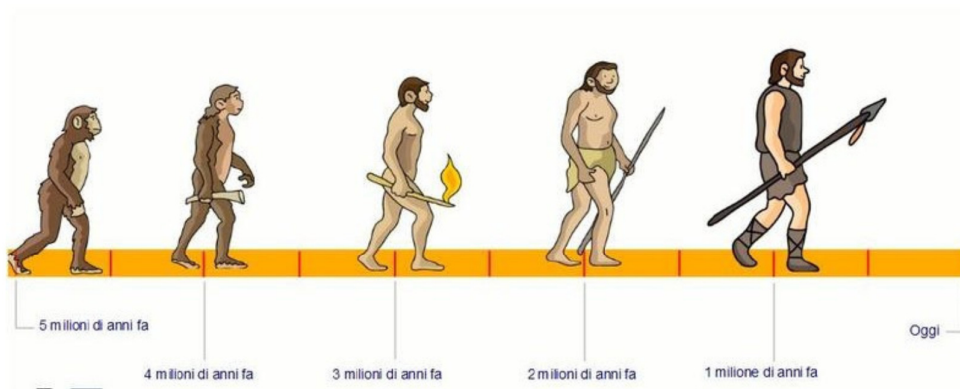
## La Madonna Sistina -

Raffaello Sanzio



(Da Wikipedia) La **Madonna Sistina** è un dipinto a olio su tela (265x196 cm) di Raffaello, databile al 1513-1514 era stata destinata alla chiesa del convento di San Sisto a Piacenza. I frati la vendettero ad Augusto III, principe elettore di Sassonia e re di Polonia, che desiderava per la sua pinacoteca a Dresda un'opera autentica e rappresentativa di Raffaello. Il principe regalò, poi, una copia del dipinto al convento. Molto famosi gli angeli rappresentati nella parte bassa dell'opera, che sono stati spesso riprodotti, anche senza il resto del dipinto.

# PERCORSO DI STORIA: L'EVOLUZIONE DELL'UOMO



**CLASSI: TERZE SCUOLA PRIMARIA**



## • 1.1 AUSTRALOPITECO



ERA **NOMADE**: SI SPOSTAVA IN CONTINUAZIONE

### CHI ERA?

ERA UN OMINIDE

### DOVE VISSO?

VISSO IN AFRICA




DORMIVA NELLE CAVERNE O SUGLI ALBERI



A cura di Anna Carmelitano

## 1.4 HOMO HABILIS = UOMO ABILE



### PERCHE' UOMO ABILE?



L'HOMO HABILIS ERA UN ABILE COSTRUTTORE DI UTENSILI: CREO' I **CHOPPER** CHE ERANO PIETRE CHE VENIVANO AFFILATE DA UN LATO RENDENDOLE TAGLIENTI.

I CHOPPER VENIVANO AFFILATI CON LA **SELCE** UNA PIETRA MOLTO DURA.

A cura di Anna Carmelitano

## 1.5 HOMO ERECTUS: UOMO DRITTO

### LA SCOPERTA DEL FUOCO



LO **STROFINIO** DI DUE RAMETTI  
DI LEGNO SECCHI


L'HOMO ERECTUS CAPI'  
CHE POTEVA CCENDERE  
IL FUOCO TRAMITE:




LA **PERCUSSIONE** DI DUE PIETRE

A cura di Anna Carmelitano


## 1.4 L'HOMO SAPIENS: COSA SAPEVA FARE?



DIPINGEVA SULLE PARETI  
DELLE CAVERNE



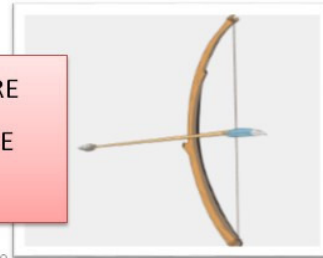
SI DEDICAVA ALLA CACCIA E  
ALLA PESCA



COLTIVAVA LA TERRA



ERA IN GRADO DI COSTRUIRE  
UTENSILI COMPLESSI COME  
FRECCE E ARCHI



A cura di Anna Carmelitano

## Le tre coniugazioni

- Volgi all'infinito i seguenti verbi.

- ballava → ballare

- parliamo → .....

- aprite → .....

- corse → .....

- scrivo → .....

- cantava → .....

- dormirai → .....

- parti → .....

- tremate → .....

- credo → .....

- sentiste → .....

- guardai → .....

- riderà → .....

- scopri → .....

- mangia → .....

- viaggiava → .....

- scherzano → .....

- scriverete → .....

- raccolgo → .....

- ricordasti → .....

- fuggirono → .....

- staccava → .....

- colsi → .....

- salivano → .....

- scappate → .....

- leggerai → .....

- studiamo → .....

- ricamasti → .....

- cinguetta → .....

- escono → .....