

Assegno del giorno 27/4/2020

MATEMATICA

1. Esegui in colonna le seguenti operazioni : $3589 : 6 =$ $5876 : 8 =$ $4852 : 4 =$ $7598 : 9 =$

$3251 \times 4 =$ $2129 \times 7 =$ $1987 \times 9 =$

2. Ricopia sul quaderno gli esercizi a pagina 3 del file e completa

2 Le frazioni , ulteriori distinzioni. Guarda il video della maestra ed esegui gli esercizi che lei ti suggerirà

ITALIANO

1. Componimento: *Ciao , questo/a sono io*

Descrivi te stesso, utilizzando le informazioni e lo schema che la maestra ti ha suggerito in video lezione , per un aiutino leggi il brano a pagina 4 del file e utilizza la struttura del brano per fare una bella descrizione articolata di te stesso (il brano è molto breve , se riesci prova a farlo un po' più ricco di informazioni)

SCIENZE

1. Completa gli esercizi 1, 2 e 3 a pagina 135 del libro di scienze

2. Introduciamo gli animali . Spiegazione nel pomeriggio durante il collegamento della maestra.

Assegno del giorno 28/4/2020

ITALIANO

1. Fare l'analisi grammaticale delle seguenti espressioni (salta ovviamente le preposizioni che non conosci ancora)

La mattina nel parco, stormi di uccellini cantano felici – Mia nonna amava le sue bambole di stoffa – La tua amica Giulia canterà una canzone bellissima – La tua gattaccia ha graffiato la mia bambina

2. Il modo Indicativo - I tempi composti . Guarda il video della maestra e coniuga tutti tempi composti del verbo scrivere , utilizzando le caselle ancora vuote dell'armadio dei verbi

STORIA

1. L'uomo di Neanderthal e l'uomo di Cro – Magnon . Guarda il video e studia utilizzando le mappe concettuali a pagina 5 del file

Assegno del giorno 29/4/2020

MATEMATICA

1. Esegui gli esercizi presenti a pagina 6 e 7 del file, se non hai la stampante ricopia sul quaderno solo le risposte esatte

GEOMETRIA

1. Gli angoli – guarda il video della maestra ed esegui esercizio numero 3 a pagina 90 del libro di matematica, esercizio numero 4, 5 e 6 a pagina 91

GEOGRAFIA

1. Ripeti benissimo la campagna e completa pagina 136 e 137 del libro di geografia

Assegno del giorno 30/04/2020

ITALIANO

1. Coniuga sul quaderno tutti i tempi semplici e composti del modo Indicativo del verbo saltare
2. Esegui tutti gli esercizi a pagina 98 e 99 del libro di grammatica
3. Leggi 3 volte pagina 122 del libro di lettura e completa il primo esercizio della pagina

MATEMATICA

1. Scrivi 3 frazioni proprie, 3 frazioni improprie, 3 frazioni apparenti, 3 coppie di frazioni complementari e 3 coppie di frazioni equivalenti
2. Indica sul quaderno quale tra le seguenti coppie di frazioni è la maggiore :
 $7/12 - 9/12$; $5/11 - 3/11$; $4/10 - 8/10$; $5/7 - 5/10$; $7/9 - 7/12$; $10/15 - 10/18$; $4/9 - 4/12$

RELIGIONE

1. Leggi e completa le schede presenti nelle ultime due pagine del file .
Collegati al link https://www.youtube.com/watch?v=fnxMj4_7cSQ e guarda il video

Esercizi

44 Completate le seguenti tabelle, sostituendo ai punti un numero opportuno in modo da ottenere successivamente frazioni proprie, improprie (non apparenti) ed apparenti:

Frazioni proprie	Frazioni improprie (non apparenti)	Frazioni apparenti
$\frac{4}{5}$	$\frac{4}{3}$	$\frac{4}{2}$
$\frac{\dots}{6}$	$\frac{\dots}{6}$	$\frac{\dots}{6}$
$\frac{10}{\dots}$	$\frac{10}{\dots}$	$\frac{10}{\dots}$
$\frac{\dots}{10}$	$\frac{\dots}{10}$	$\frac{\dots}{10}$
$\frac{21}{\dots}$	$\frac{21}{\dots}$	$\frac{21}{\dots}$
$\frac{12}{\dots}$	$\frac{12}{\dots}$	$\frac{12}{\dots}$

Frazioni proprie	Frazioni improprie (non apparenti)	Frazioni apparenti
$\frac{16}{\dots}$	$\frac{16}{\dots}$	$\frac{16}{\dots}$
$\frac{\dots}{20}$	$\frac{\dots}{20}$	$\frac{\dots}{20}$
$\frac{\dots}{17}$	$\frac{\dots}{17}$	$\frac{\dots}{17}$
$\frac{15}{\dots}$	$\frac{15}{\dots}$	$\frac{15}{\dots}$
$\frac{3}{\dots}$	$\frac{3}{\dots}$	$\frac{3}{\dots}$
$\frac{\dots}{5}$	$\frac{\dots}{5}$	$\frac{\dots}{5}$



LEGGI ATTENTAMENTE QUESTA DESCRIZIONE

IO SONO COSÌ

Mi chiamo Matilde, ho sette anni e frequento la seconda elementare. I miei compagni di classe mi chiamano Tilde.

Sono una bambina dal fisico robusto.

Il mio viso è paffutello e la mamma spesso mi dice che ho la pelle vellutata come una pesca.

Mi vesto con i pantaloni e con felpe coloratissime.

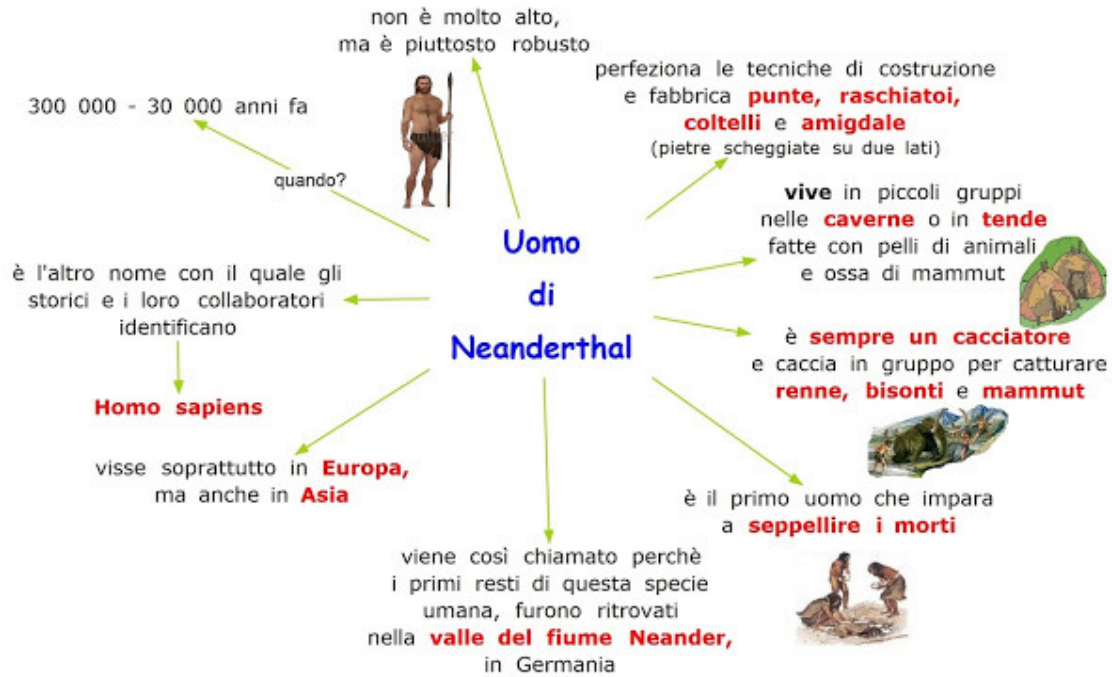
Mi piace ballare e quando ho tempo cerco di imitare le ballerine.

Le cose che proprio non sopporto sono i giochi da maschi e le ... le zucchine. A volte la mamma mi costringe a mangiarle e in quei momenti vorrei scappare via.

Tutto sommato credo di essere una bambina simpatica.

MI DESCRIVO: IO SONO COSÌ

Segui la struttura del brano “IO SONO COSÌ” e prova a fare un'altra descrizione di te stesso.



Paradiso delle mappe

www.anastasi.it

L'Uomo di Cro-Magnon

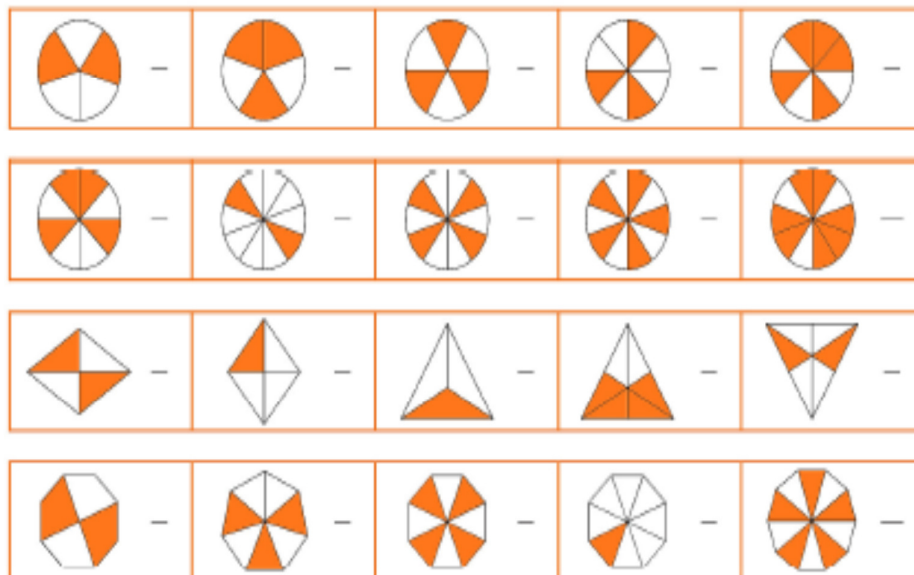
(*Homo sapiens-sapiens*)



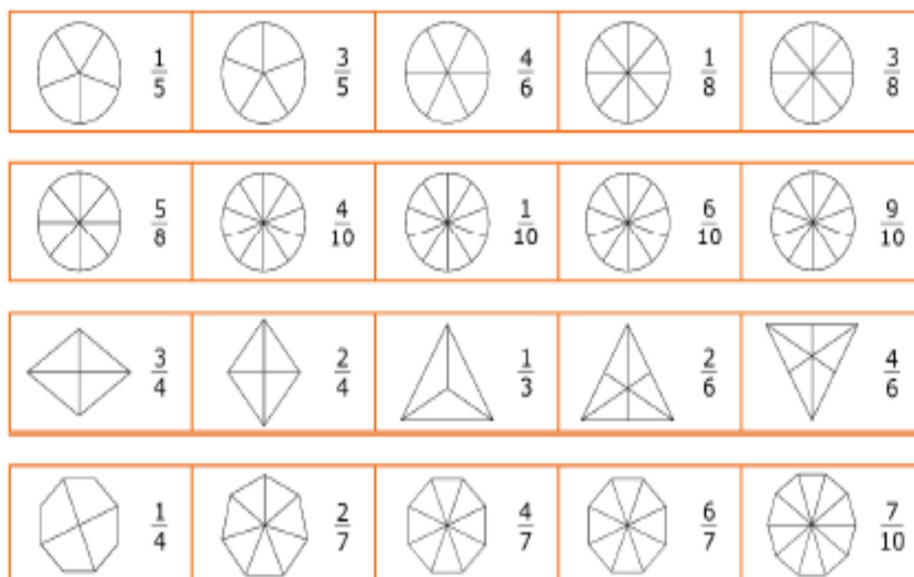
Paradiso delle mappe

www.anastasi.it

1. Scrivi accanto ad ogni figura la frazione corrispondente alle parti colorate.



2. Colora le parti della figura indicate dalla frazione scritta accanto.



LE FRAZIONI PROPRIE, IMPROPRIE E APPARENTI

1. Segna le risposte esatte con una crocetta.

- Se il numeratore è minore del denominatore si tratta di una frazione:

propria impropria apparente

- Se il numeratore è maggiore del denominatore si tratta di una frazione:

propria impropria apparente

- Se il numeratore è un multiplo del denominatore si tratta di una frazione:

propria impropria apparente

2. Completa l'esercizio cerchiando solo le frazioni proprie.

$\frac{3}{5}$ $\frac{13}{9}$ $\frac{7}{8}$ $\frac{10}{11}$ $\frac{4}{3}$ $\frac{5}{5}$ $\frac{4}{8}$ $\frac{9}{5}$ $\frac{1}{2}$ $\frac{3}{2}$ $\frac{3}{6}$ $\frac{17}{12}$ $\frac{14}{7}$ $\frac{13}{15}$

3. Completa l'esercizio cerchiando solo le frazioni improprie.

$\frac{3}{5}$ $\frac{7}{9}$ $\frac{11}{7}$ $\frac{7}{5}$ $\frac{6}{8}$ $\frac{10}{15}$ $\frac{9}{9}$ $\frac{5}{4}$ $\frac{8}{19}$ $\frac{7}{3}$ $\frac{4}{3}$ $\frac{9}{10}$ $\frac{13}{17}$ $\frac{11}{5}$

4. Completa l'esercizio cerchiando solo le frazioni apparenti.

$\frac{7}{5}$ $\frac{10}{9}$ $\frac{14}{7}$ $\frac{10}{10}$ $\frac{4}{9}$ $\frac{13}{8}$ $\frac{16}{4}$ $\frac{19}{6}$ $\frac{1}{2}$ $\frac{4}{2}$ $\frac{15}{5}$ $\frac{18}{3}$ $\frac{15}{6}$ $\frac{7}{7}$

5. Completa la tabella inserendo al numeratore i numeri presenti nella colonna di destra.

Proprie	Improprie	Apparenti	Numeri tra cui scegliere
$\frac{2}{4}$	$\frac{7}{4}$	$\frac{8}{4}$	8 - 2 - 7
$\frac{12}{12}$	$\frac{12}{12}$	$\frac{12}{12}$	9 - 12 - 15
$\frac{15}{15}$	$\frac{15}{15}$	$\frac{15}{15}$	25 - 30 - 12
$\frac{9}{9}$	$\frac{9}{9}$	$\frac{9}{9}$	27 - 19 - 3
$\frac{7}{7}$	$\frac{7}{7}$	$\frac{7}{7}$	6 - 8 - 7

LA PRIMA COMUNITÀ

Dopo la Risurrezione, Gesù appare più volte ai discepoli e promette che, subito dopo essere ritornato al cielo, avrebbe mandato loro un aiuto straordinario: lo Spirito Santo. Gli Apostoli infatti avevano paura di venire uccisi come Gesù e, mentre stavano nel cenacolo, il luogo dove avevano mangiato l'ultima volta con Lui, ecco che...

... sentirono un rumore e un forte vento invadere la stanza, videro lingue di fuoco che si posavano su ciascuno di loro. Essi furono pieni di Spirito Santo.

At 2,1-4



Lo Spirito Santo colmò gli Apostoli del coraggio necessario per annunciare alle genti che Gesù era il Figlio di Dio ed era risorto. Molte persone credettero e chiesero di essere battezzate. Il giorno di Pentecoste la Chiesa, il popolo di Dio che Gesù aveva fondato durante la sua predicazione scegliendo gli Apostoli, si manifesta al mondo per la prima volta.

🌀 Metti in ordine i fatti riportati sotto con i numeri da 1 a 6.

Per indicare i Cristiani si usa il termine **Chiesa**, con la **C** maiuscola, lo stesso che usiamo per l'edificio sacro, dove si va a pregare, ma in quel caso **chiesa** è scritto con la **c** minuscola!

- Si manifesta la Chiesa.
- Gesù appare agli Apostoli.
- Gesù sale al cielo.
- Molte persone si fanno battezzare.
- Gesù risorge.
- Lo Spirito Santo scende sugli Apostoli.



DALLA PASQUA ALLA CHIESA

Mettili in ordine, con i numeri da 1 a 7, gli episodi raccontati e colora.



- Si manifesta la Chiesa.
- Gesù risorto appare agli Apostoli.
- Gesù promette il dono dello Spirito, poi sale al cielo.
- Gesù muore in croce.
- Lo Spirito Santo scende sugli Apostoli.
- Dopo tre giorni Gesù risorge.
- Molte persone chiedono il Battesimo.

Colora le caselle delle lettere che formano le parole elencate.

C	U	O	R	E	D	I	O
A	C	P	F	D	O	N	O
M	H	A	I	U	A	A	E
P	I	P	O	C	M	T	A
A	E	E	R	A	E	A	V
N	S	E	I	R	N	L	S
E	A	C	P	E	O	E	V
I	A	D	O	R	A	R	E

- Dono
- Educare
- Cuore
- Adorare
- Chiesa
- Campane
- Dio
- Prete
- Fiori
- Amen
- Natale



Il _____, I _____ guidano, oggi, al posto degli Apostoli, la Chiesa di Gesù.

Leggi e completa.

Gesù, prima della sua morte in croce, aveva detto: "Dove sono due o tre riuniti nel mio nome, io sono in mezzo a loro". Egli, infatti è presente anche oggi nel popolo di Dio, la Chiesa, nel segno del pane e del vino, consacrati dai sacerdoti grazie all'azione dello _____